


ハッピー  
つなごう



4年生

カウントダウンスタート!

★ 毎日カウントダウンしよう ★ 答えのないものはおうちの人と一緒に考えよう

★ 5月7日(木)に持ってくるひつようはありません



年 月 日

下の2枚の絵の中に3つ違うところがあります。違うところを見つけて右側の絵に○をしましょう。




4/14  
29-130 23日  
この調子で!



年 月 日

下の2枚の絵の中に3つ違うところがあります。違うところを見つけて右側の絵に○をしましょう。





年 月 日

これまでの最高  
分 秒

目標  
分 秒

今回  
分 秒

<sup>なか</sup>の中の3つの<sup>すうじ</sup>数字を<sup>た</sup>足して、9になるものを<sup>さが</sup>探し、 <sup>かこ</sup>で<sup>かこ</sup>囲みま  
しょう。たて、よこ、<sup>すうじ</sup>ななめの<sup>み</sup>数字から<sup>み</sup>見つけましょう。

1 6 2 3	2 3 5 4	4 2 3 5	0 1 2 7
6 1 0 8	1 3 4 5	2 4 6 1	7 1 1 6
1 2 3 5	3 1 5 4	2 7 6 1	3 2 2 5
4 1 5 3	4 5 2 3	2 1 6 3	3 4 5 2



年 月 日

これまでの最高  
分 秒

目標  
分 秒

今回  
分 秒

<sup>なか</sup>の中の3つの<sup>すうじ</sup>数字を<sup>た</sup>足して、10になるものを<sup>さが</sup>探し、 <sup>かこ</sup>で<sup>かこ</sup>囲みま  
しょう。たて、よこ、<sup>すうじ</sup>ななめの<sup>み</sup>数字から<sup>み</sup>見つけましょう。

1 7 2 3	3 1 5 4	2 5 4 3	4 6 3 3
6 1 0 9	1 6 2 2	5 4 6 1	1 5 5 0
4 3 3 6	3 5 2 6	2 8 0 1	2 4 2 6
4 1 2 4	5 7 2 3	8 1 6 1	3 4 3 2



4/15  
スタートまで22日



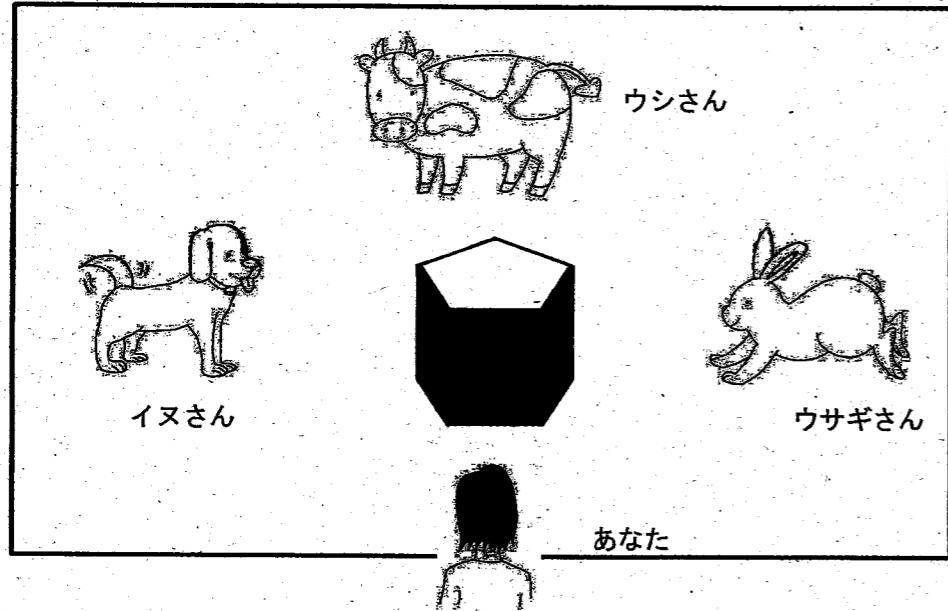
これは  
おもしろい






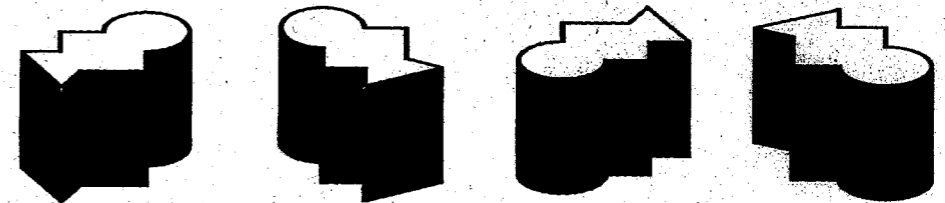
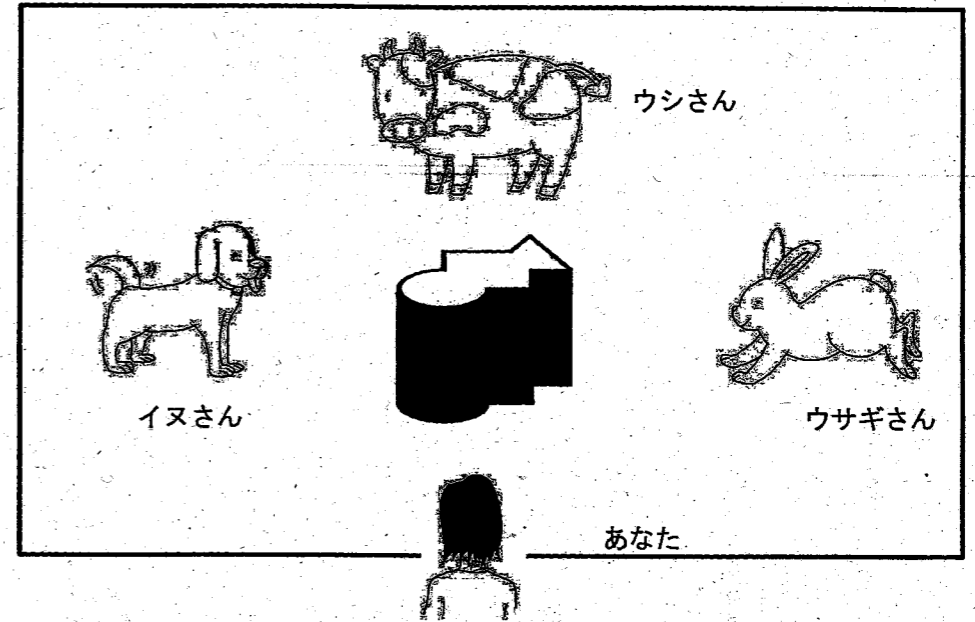
年 月 日

真ん中の立体図をイヌさん、ウシさん、ウサギさんから見ると、どう見えるでしょうか？ 線でつなぎましょう。



年 月 日

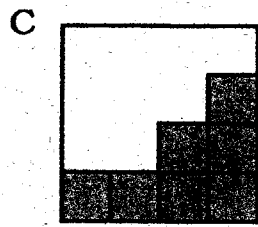
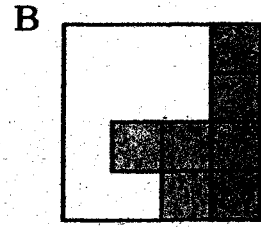
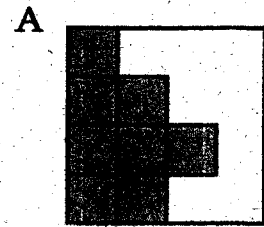
真ん中の立体図をイヌさん、ウシさん、ウサギさんから見ると、どう見えるでしょうか？ 線でつなぎましょう。





年 月 日

下のA, B, Cの空白に合う形を1~12の中から選びましょう。




答え ( )


( )

( )


1




2




3




4




5




6




7




8




9




10



11



12


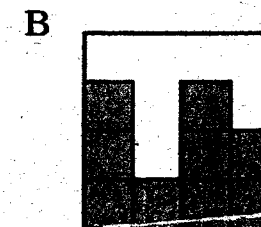



4/17  
スタートは20日!



年 月 日

下のA, B, Cの空白に合う形を1~12の中から選びましょう。




答え ( )


( )

( )


1




2




3




4




5




6




7




8




9




10



11



12



3/17  
回転云々



年 月 日

これまでの最高  
分 秒

目標  
分 秒

今回  
分 秒

<sup>なか</sup>の中のため、よこ、ななめとなりあった2つの<sup>すうじ</sup>数字を<sup>た</sup>足すと、  
12になるものが3つずつあります。それを<sup>さが</sup>探して○で<sup>かこ</sup>囲みましょう。

6	6	5
3	7	4
7	8	9

1	4	5
7	5	3
6	7	5

7	3	2
6	8	9
4	9	4

3	7	6
2	9	5
1	8	7

2	5	7
4	6	6
6	1	3

1	4	8
8	2	3
6	7	5

4	3	9
5	7	1
3	2	5

6	7	3
6	4	5
8	3	2

6	3	8
2	4	1
8	5	7



年 月 日

これまでの最高  
分 秒

目標  
分 秒

今回  
分 秒

<sup>なか</sup>の中のため、よこ、ななめとなりあった2つの<sup>すうじ</sup>数字を<sup>た</sup>足すと、  
13になるものが3つずつあります。それを<sup>さが</sup>探して○で<sup>かこ</sup>囲みましょう。

6	2	5
3	7	4
6	8	9

2	4	5
7	9	3
6	8	5

7	4	2
6	8	9
4	6	4

3	7	6
4	9	5
1	8	7

2	5	7
4	6	6
6	9	3

1	4	8
8	9	6
5	7	5

8	4	9
5	7	1
3	2	6

6	7	3
4	6	5
8	3	8

9	3	8
2	4	5
8	5	7



消	終	式	仕	庫	区	急	階	運	悪
商	習	実	死	湖	苦	級	寒	泳	安
章	集	写	使	向	具	宮	感	馱	暗
勝	任	者	始	幸	君	球	漢	央	医
乘	重	主	指	港	係	去	館	横	委
植	宿	守	齒	号	輕	橋	岸	屋	意
身	所	取	詩	根	血	業	起	温	育
神	暑	酒	次	祭	決	曲	期	化	員
真	助	受	事	坂	研	局	客	界	院
深	昭	州	持	皿	凵	銀	究	開	飲

漢字の書き方

4/19 18日





落	由	勉	病	鼻	動	鉄	着	他	進
流	油	放	拾	反	童	転	注	打	世
練	有	味	品	板	荷	都	柱	対	整
西	遊	昔	負	皮	農	度	丁	待	全
緑	予	命	部	悲	波	投	帳	代	相
礼	羊	面	服	美	配	豆	調	第	送
列	洋	申	福	筆	倍	島	追	題	想
練	葉	問	物	氷	箱	湯	定	炭	息
路	陽	役	平	表	畑	登	庭	短	速
和	様	葉	返	秒	発	等	笛	談	族

なぞろう!

4/20 29-1-27 17日!



◆ 漢字を書きましよう。 — のことは、漢字とおくりがなで書きましよう。

4/21  
スタートまで [16日]

10 水をそそぐ。 [ ]	9 ねん土をねる。 [ ]	8 話の [ ] 切り。	7 [ ] 意ぶかい ちゅう	6 [ ] げんする じよ	5 発 [ ] をする。 げん	4 [ ] 発する はん	3 すすめ方 [ ]	2 [ ] すすむ。 ぼ	1 [ ] 手で持つ。 りよう
20 鉄 [ ] でやく。 ばん	19 [ ] 行する しん	18 見 [ ] 館 どう	17 はん [ ] する たい	16 漢字の [ ] 習。 れん	15 相手の都 [ ] 。 ごう	14 [ ] ふかい海。 [ ]	13 [ ] 体をそらす。 [ ]	12 [ ] 人をたすける。 [ ]	11 池の水 [ ] 。
30 全 [ ] 集まる。 いん	29 関 [ ] がある。 けい	28 電 [ ] のそば。 ちゅう	27 [ ] 田をほる。 ゆ	26 函書 [ ] がかり	25 家の [ ] 。	24 [ ] 絵を習う。 あぶら	23 羽子 [ ] いた	22 空 [ ] に着く。 こう	21 [ ] 所を書く。 じゅう
40 大きな動 [ ] 。	39 大切な [ ] 。	38 太 [ ] の光。 よう	37 [ ] あついで夏。 [ ]	36 [ ] がでる。 ち	35 [ ] ひこうきにのる。 [ ]	34 [ ] えきまでおくる。 [ ]	33 かん [ ] 文 そう	32 [ ] の回り み	31 [ ] 今の天気。 や
50 [ ] 動する かん	49 [ ] 発する しゅつ	48 [ ] 車が走る。 れつ	47 [ ] おいかける [ ]	46 暗い [ ] の下。 はし	45 [ ] 外はさむい。 [ ]	44 [ ] 体がかかるい。 [ ]	43 [ ] 一の場面。 だい	42 [ ] 車する じゅう	41 [ ] 多くの生 。

◆ かん字を書きましよう。——のこぼは、かん字とおくりがなで書きましよう。

①  ぼ  
すすむ。

②  はん  
発する

③  じよ  
言する

④  りよう  
手で持つ。

⑤  じ  
館

⑥  かん  
習。

⑦  ことば  
切り。

⑧  しん  
行する

⑨  はん  
する

⑩  ちゆう  
意深い

⑪  ばん  
でやく。

⑫  ゆ  
田をほる。

⑬  いん  
集まる。

⑭  けい  
がある。

⑮  じゆう  
所を書く。

⑯  み  
の回り

⑰  せう  
文

⑱  ちゆう  
のそば。

⑲  こう  
に着く。

⑳  かん  
動する

㉑  ち  
が出る。

㉒  いのち  
大切な

㉓  に  
物を持つ。

㉔  れつ  
車が走る。

㉕  よう  
の光。

㉖  しゆう  
に行く。

㉗  さん  
山田

㉘  はし  
暗い  
の下。

㉙  だい  
一場面。

㉚  きやく  
をもてなす。

㉛  ず  
をにる。

㉜  か  
外国の文

㉝  はたけ  
の作物。

㉞  しゆう  
の名月。

㉟  しょう  
かがよい。

㊱  まめ  
まき

㊲  せい  
理する

㊳  しょく  
物のたね。

㊴  むかし  
のくらし。

㊵  しゃ  
の言葉。

㊶  ひらき  
にのる。

㊷  かい  
外はさむい。

㊸  ぎ  
きまつ。

㊹  えき  
までおくる。

㊺  あつ  
い夏。

㊻  うつく  
しい花。

㊼  ぐさ  
をとる。

㊽  おい  
かける

㊾  たい  
がかるい。

㊿  十分  
にそだつ。





⑩学  しゅう する  
 ⑨  は っぱ  
 ⑧  とう 場人物  
 ⑦  い 見を言う。  
 ⑥  み がる。  
 ⑤  しょう 売をする。  
 ④  し を楽しむ。  
 ③広い場  しよ  
 ②家  ぞく の顔。  
 ①地  めん におく。

⑳  こおり がとける。  
 ⑲  はつ 音する  
 ⑱  もん 題をとく。  
 ⑰  のう 家の人。  
 ⑯  しゅ 語と述語。  
 ⑮あま  ざけ  
 ⑭  かん 字を書く。  
 ⑬六十  びよう  
 ⑫  つぎ の文。  
 ⑪自  ゆう に話す。


⑳  てつ のくさり。  
 ㉑  よう 服を買う。  
 ㉒人の気  はい  
 ㉓安  てい する  
 ㉔  せ 界中  
 ㉕  ゆう 名な絵。  
 ㉖ゆうびん  きよく  
 ㉗  ゆび でつまむ。  
 ㉘電話の  あい 手。  
 ㉙出来  ごと

㉚毛  ひつ て書く。  
 ㉛たてと  よこ  
 ㉜作  ひん を作る。  
 ㉝入学  しき の日。  
 ㉞  ぎん 行に行く。  
 ㉟地図の記  ここう  
 ㊱  よう 子を見る。  
 ㊲  きよ 年の春。  
 ㊳通学  ろ  
 ㊴文  しやう を読む。

㊵  本をおつめる。  
 ㊶  さいふをおとす。  
 ㊷  かん字をつかう。  
 ㊸  文のおわり。  
 ㊹  外であそぶ。  
 ㊺  書きあらわす  
 ㊻  いみをしらべる。  
 ㊼  みじかいことば。  
 ㊽  話をふりかえる。  
 ㊾  あたたかいお茶。

漢字を書きましよう。 ——— の言葉は、漢字と送りがなて書きましよう。

10 黒 [ ] ばん に書く。	9 [ ] は がいたい。	8 [ ] かん 中見まい	7 大きな [ ] はし	6 安全 [ ] だい	5 農 [ ] ぎよう	4 黒 [ ] まめ をにる。	3 委 [ ] いん 会	2 文 [ ] か 会館	1 車に [ ] の る。
20 [ ] ゆ をわかす。	19 [ ] みなと が見える。	18 町に [ ] す む。	17 [ ] しょう ぼう車	16 [ ] せら あらい	15 バスの [ ] しゅう 点。	14 黄 [ ] みどり 色	13 はしを [ ] も つ。	12 上 [ ] きゆう 生	11 [ ] し 用方ほう
30 [ ] と りあげる	29 [ ] りよ 行に行く。	28 [ ] てつ 道もけい	27 [ ] き まりごと	26 [ ] う けとる	25 昭 [ ] わ 時代	24 [ ] お いかける	23 世 [ ] かい は広い。	22 [ ] こわり がとける。	21 九 [ ] しゅう 地方
40 [ ] しん 長と体重。	39 田と [ ] はたけ	38 相 [ ] だん する	37 [ ] くら い道。	36 王に [ ] つか える。	35 [ ] に 物が重い。	34 ぞうの [ ] はな	33 バナナの [ ] かわ	32 [ ] めい 中する	31 二 [ ] かい だて
50 [ ] 風をかんじる。	49 [ ] 魚がおよぐ。	48 [ ] 本をかえす。	47 [ ] 木をうえる。	46 [ ] お茶をそそぐ。	45 [ ] あつい夏。	44 [ ] 庭であそぶ。	43 [ ] かなしい歌。	42 [ ] 犬をそだてる。	41 [ ] かるいかばん。



終わったら思おしきしきましよう。

組番

点

各点100  
総やまぢかゆが

4/26  
29-120

漢字を書きましよう。 ———— の言葉は、漢字と送りがなて書きましよう。

① 農 ぎよう  
□

② 安全 だいい  
□

③ 大きな はし  
□

④ しやう  
□ ぼう車

⑤ 町に す  
□ む。

⑥ みなと  
□ が見える。

⑦ ゆ  
□ をわかつ。

⑧ 九 しゆう  
□ 地方

⑨ こおり  
□ がとける。

⑩ 世 かい  
□ は広い。

⑪ かん  
□ 中見まい

⑫ は  
□ がいたい。

⑬ 黒 ばん  
□ に書く。

⑭ 車に の  
□ る。

⑮ 文 か  
□ 会館

⑯ 委 いん  
□ 会

⑰ 黒 まめ  
□ をにる。

⑱ 相 だん  
□ する

⑲ 田と はたけ  
□

⑳ しん  
□ 長と体重。

□ 用方ほう

上 きゆう  
□ 生

はしを も  
□ づ。

二 かい  
□ だて

□ めい 中する

バナナの かわ  
□

ぞうの はな  
□

□ お いかける

昭 わ  
□ 時代

□ う けとる

⑳ 黄 みどり  
□ 色

㉑ バスの しゆう  
□ 点。

㉒ さら  
□ あらい

㉓ き  
□ まりごと

㉔ てつ  
□ 道もけい

㉕ りよ  
□ 行に行く。

㉖ と  
□ りあげる

㉗ に  
□ 物が重い。

㉘ 王に つか  
□ える。

㉙ くら  
□ 道。

㉚ 本をかえす。

㉛ 魚がおよぐ。

㉜ 風をかんじる。

㉝ かるい かばん。

㉞ 犬をそだてる。

㉟ かなしい歌。

㊱ 庭であそぶ。

㊲ あついで夏。

㊳ お茶をそそぐ。

㊴ 木をうえる。




かわったりの思なびまじりて書い。

4/27  
スタート  
10日



名前



▲ ひき算をしましょう。

① 
$$\begin{array}{r} 342 \\ -154 \\ \hline \end{array}$$

② 
$$\begin{array}{r} 648 \\ -299 \\ \hline \end{array}$$

③ 
$$\begin{array}{r} 457 \\ -259 \\ \hline \end{array}$$

④ 
$$\begin{array}{r} 912 \\ -724 \\ \hline \end{array}$$

⑤ 
$$\begin{array}{r} 531 \\ -37 \\ \hline \end{array}$$

⑥ 
$$\begin{array}{r} 724 \\ -286 \\ \hline \end{array}$$

⑦ 
$$\begin{array}{r} 873 \\ -386 \\ \hline \end{array}$$

⑧ 
$$\begin{array}{r} 680 \\ -596 \\ \hline \end{array}$$

⑨ 
$$\begin{array}{r} 304 \\ -176 \\ \hline \end{array}$$

⑩ 
$$\begin{array}{r} 654 \\ -395 \\ \hline \end{array}$$

⑪ 
$$\begin{array}{r} 475 \\ -187 \\ \hline \end{array}$$

⑫ 
$$\begin{array}{r} 263 \\ -175 \\ \hline \end{array}$$

⑬ 
$$\begin{array}{r} 467 \\ -389 \\ \hline \end{array}$$

⑭ 
$$\begin{array}{r} 325 \\ -298 \\ \hline \end{array}$$

⑮ 
$$\begin{array}{r} 500 \\ -99 \\ \hline \end{array}$$

⑯ 
$$\begin{array}{r} 777 \\ -489 \\ \hline \end{array}$$

⑰ 
$$\begin{array}{r} 848 \\ -269 \\ \hline \end{array}$$

⑱ 
$$\begin{array}{r} 211 \\ -193 \\ \hline \end{array}$$

⑲ 
$$\begin{array}{r} 926 \\ -637 \\ \hline \end{array}$$

⑳ 
$$\begin{array}{r} 156 \\ -88 \\ \hline \end{array}$$

名前



★ 計算をしましょう。

① 
$$\begin{array}{r} 826 \\ -537 \\ \hline \end{array}$$

② 
$$\begin{array}{r} 258 \\ -199 \\ \hline \end{array}$$

③ 
$$\begin{array}{r} 345 \\ -176 \\ \hline \end{array}$$

④ 
$$\begin{array}{r} 533 \\ -456 \\ \hline \end{array}$$

⑤ 
$$\begin{array}{r} 638 \\ -489 \\ \hline \end{array}$$

⑥ 
$$\begin{array}{r} 394 \\ -198 \\ \hline \end{array}$$

⑦ 
$$\begin{array}{r} 711 \\ -528 \\ \hline \end{array}$$

⑧ 
$$\begin{array}{r} 202 \\ -147 \\ \hline \end{array}$$

⑨ 
$$\begin{array}{r} 967 \\ -289 \\ \hline \end{array}$$

⑩ 
$$\begin{array}{r} 536 \\ -367 \\ \hline \end{array}$$

⑪ 
$$\begin{array}{r} 494 \\ -295 \\ \hline \end{array}$$

⑫ 
$$\begin{array}{r} 177 \\ -88 \\ \hline \end{array}$$

⑬ 
$$\begin{array}{r} 661 \\ -462 \\ \hline \end{array}$$

⑭ 
$$\begin{array}{r} 700 \\ -618 \\ \hline \end{array}$$

⑮ 
$$\begin{array}{r} 180 \\ -87 \\ \hline \end{array}$$

⑯ 
$$\begin{array}{r} 415 \\ -336 \\ \hline \end{array}$$

⑰ 
$$\begin{array}{r} 975 \\ -787 \\ \hline \end{array}$$

⑱ 
$$\begin{array}{r} 692 \\ -496 \\ \hline \end{array}$$

⑲ 
$$\begin{array}{r} 820 \\ -343 \\ \hline \end{array}$$

㉑ 
$$\begin{array}{r} 786 \\ -587 \\ \hline \end{array}$$

4/28  
29-122 9日



☆  にあてはまる数を書きましょう。



① 3dLと 0.5dLで、  dL

② 1dLと  dLで、 1.8dL

③ 4.2dLは、 0.1dLが  ぶん

④ 1.56mは、 0.01mが  ぶん

⑤ 200cm =  m

⑥ 20cm =  m

⑦ 3.65m =  m  cm

⑧ 1m70cm =  m

⑨ 1m7cm =  m

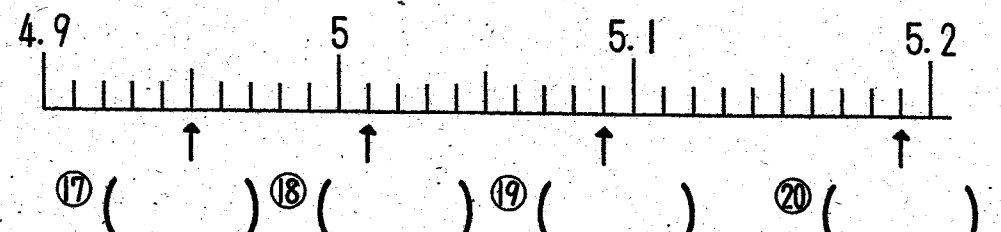
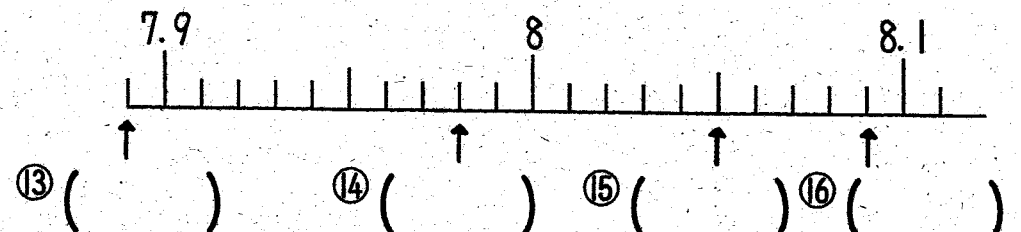
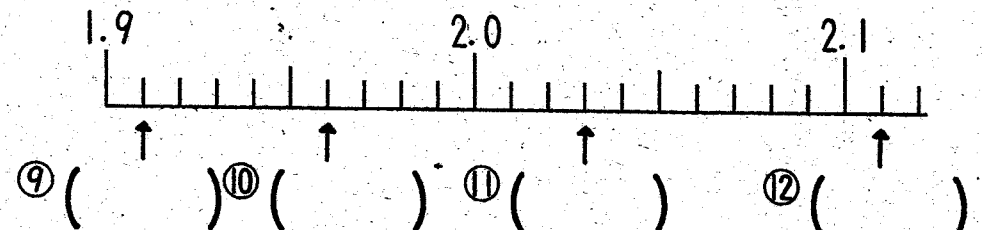
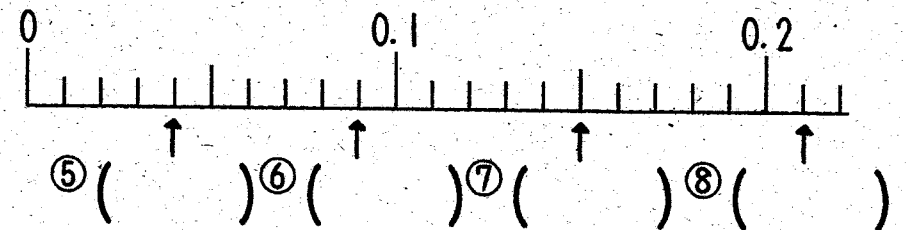
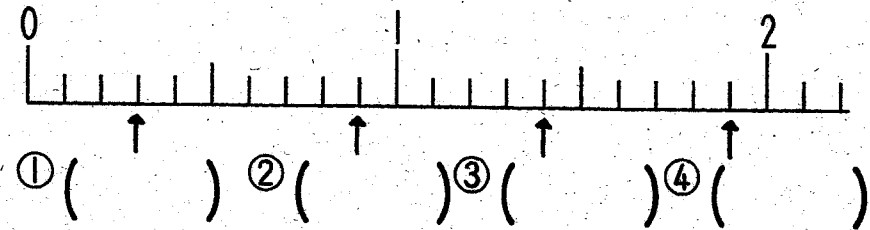
⑩ 10cm =  m

⑪ 4m50cm =  m

⑫ 4m5cm =  m



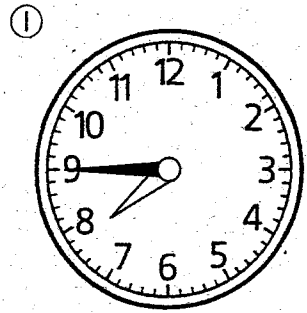


☆ 次の数直線で、↑の表している小数を書きましょう。



4/29 スタートまで 8日

1 次の時間は何時何分ですか。



2 時間の長いじゅんに記号をかきましょう。

- ㊦ 5時間30分      ㊤ 1日
- ㊧ 6時間          ㊥ 60分

答え

3 にあてはまる時間のたんいをかきましょう。

- ① 学校で給食を食べていた時間 ..... 20  間
- ② 80mを走るのにかった時間 ..... 20  間
- ③ えい画を見ていた時間 ..... 2  間

4 にあてはまる数をかきましょう。

- ① 1分 =  秒
- ② 1時間 =  分
- ③ 1日 =  時間
- ④ 1分20秒 =  秒
- ⑤ 1分53秒 =  秒
- ⑥ 128秒 =  分  秒
- ⑦ 1時間20分 =  分
- ⑧ 2時間40分 =  分
- ⑨ 100分 =  時間  分
- ⑩ 200分 =  時間  分

4/30  
スタートは 7日 (のり 1週間)

次の計算を筆算でしましょう。

わり算

各10(60)

①  $4 \overline{) 96}$

②  $3 \overline{) 53}$

③  $739 \div 2$

④  $832 \div 4$

⑤  $282 \div 6$

⑥  $411 \div 7$

かけ算

各5(20)

① 
$$\begin{array}{r} 263 \\ \times 476 \\ \hline \end{array}$$

② 
$$\begin{array}{r} 84 \\ \times 639 \\ \hline \end{array}$$

③  $581 \times 706$

④  $407 \times 905$

小数のたし算とひき算

各5(20)

① 
$$\begin{array}{r} 2.65 \\ + 1.28 \\ \hline \end{array}$$

② 
$$\begin{array}{r} 4.93 \\ + 2.27 \\ \hline \end{array}$$

③  $6.03 - 2.49$

④  $5 - 4.81$

5/1 スタートまで6日! 計算が多いな...がんばって!!

千の位までの数の仕組み → 4年 億・兆の位の数の仕組み

次の数を数字で書きましょう。

各5点(10)

① 10000を7こ、  
100を5こあわせた数 ( )

② 1000を19こ集めた数 ( )

長さの単位km 長さの単位m, cm → 4年 面積

次の問題に答えましょう。

各5点(10)

① 1kmは、何mですか。 ( ) m

② 1mは、何cmですか。 ( ) cm

分数 → 4年 1より大きい分数

□にあう数を書きましょう。

各5点(10)

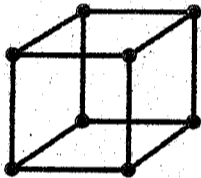
①  $\frac{1}{7}$ Lの5こ分は □ Lです。

②  $\frac{1}{8}$ mの □ こ分は1mです。

箱の形 → 4年 直方体・立方体

同じ長さのひごとねん土玉を使って、右のようなさいころの形を作ります。

各5点(10)



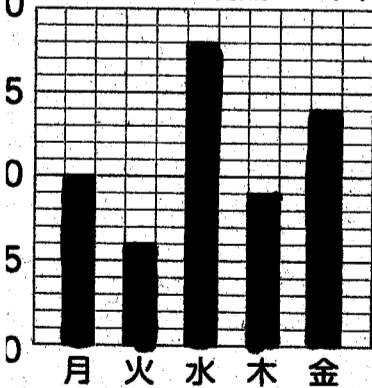
① ねん土玉は何こいりますか。 ( )

② ひごは何本いりますか。 ( )

ぼうグラフ → 4年 折れ線グラフ

下のぼうグラフを見て、答えましょう。各5点(10)

ほけん室を利用した人



① 利用した人がいちばん多いのは何曜日ですか。

( )

② 木曜日にほけん室を利用した人は何人ですか。

( )

九九を1回使ってできるわり算 → 4年 わり算の筆算

わり算をしましょう。

各5点(20)

①  $72 \div 9$

②  $28 \div 4$

③  $29 \div 3$

④  $45 \div 7$

3けたのたし算・ひき算 → 4年 小数のたし算・ひき算

筆算でしましょう。

各5点(20)

①  $274 + 153$

②  $569 + 35$

Blank box for the vertical calculation of 274 + 153.

Blank box for the vertical calculation of 569 + 35.

③  $816 - 432$

④  $257 - 89$

Blank box for the vertical calculation of 816 - 432.

Blank box for the vertical calculation of 257 - 89.

整数のかけ算の筆算 → 4年 小数のかけ算の筆算

かけ算をしましょう。

各5点(10)

① 
$$\begin{array}{r} 69 \\ \times 7 \\ \hline \end{array}$$

② 
$$\begin{array}{r} 24 \\ \times 85 \\ \hline \end{array}$$

うらの問題もやりましょう。

5/2 スタートまで 5分

1 計算をしましょう。

① 
$$\begin{array}{r} 58 \\ +71 \\ \hline \end{array}$$

② 
$$\begin{array}{r} 946 \\ -374 \\ \hline \end{array}$$

2 わり算をしましょう。

①  $18 \div 3$

②  $56 \div 7$

③  $23 \div 4$

④  $42 \div 9$



3 筆算でしましょう。

①  $37 \times 5$

②  $498 \times 6$

③  $64 \times 29$

④  $523 \times 87$

4 次の数を数字で書きましょう。

① 1000万を8こ, 100万を2こ, 10万を6こあわせた数

( )

② 1000を47こ集めた数

( )

③ 99999より1大きい数

( )

④ 590を10倍した数

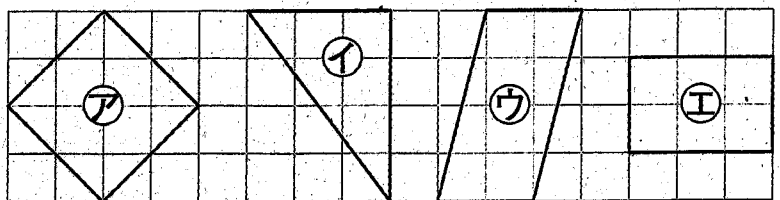
( )

⑤ 300を10でわった数

( )

5 長方形, 正方形, 直角三角形はどれですか。

ア~エで答えましょう。



▶長方形

▶正方形

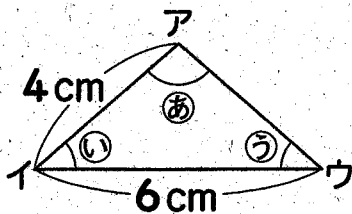
▶直角三角形

( )

( )

( )

6 下の二等辺三角形について答えましょう。



① アウの辺の長さは何cmですか。

( )

② イの角と大きさの等しい角はどれですか。

( )

5/3


スタートまで 40

名前



① だれが重いでしょう。(5x4)

① 重い方に○をしましょう。



② 1ばん重いのはだれですか。

( )

③ 2ばんめに重いのはだれですか。

( )

④ 1ばんかるいのはだれですか。

( )

② 重い方に○をしましょう。(3x6)

① 3kg, 2kg ② 750g, 1000g


③ 800g, 8kg ④ 12kg, 1200g

⑤ 3kg, 1800g ⑥ 2500g, 2kg 50g

③ 重いじゅんに( )の中に記号をかきましよう。(4x3)

① 2kg ② 500g ③ 5kg

重い( )( )かるい



④ ( )にあてはまる数を かきましよう。(5x5)

① 1000g = ( )kg

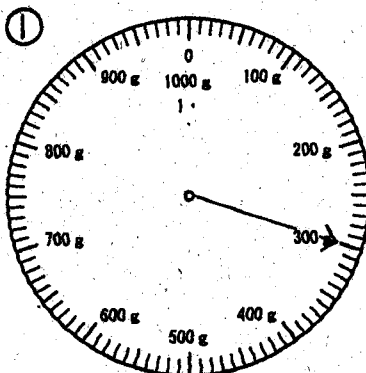
② 8000g = ( )kg

③ 3kg = ( )g

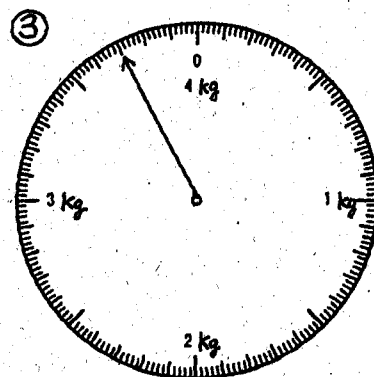
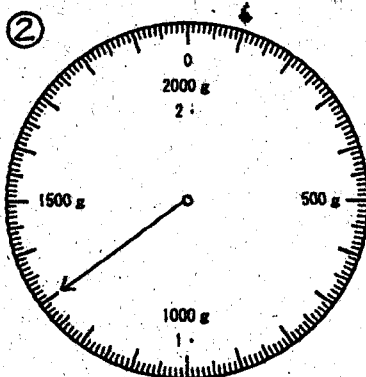
④ 1kg 200g = ( )g

⑤ 3500g = ( )kg ( )g

⑤ はかりのはりがさしている重さを ( )の中にかきましよう。(5x5)

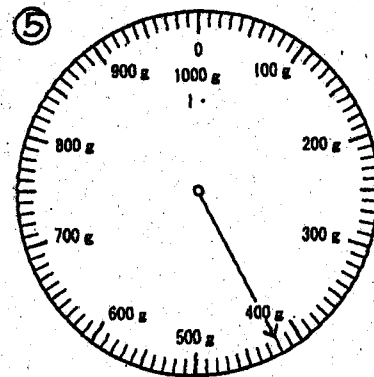
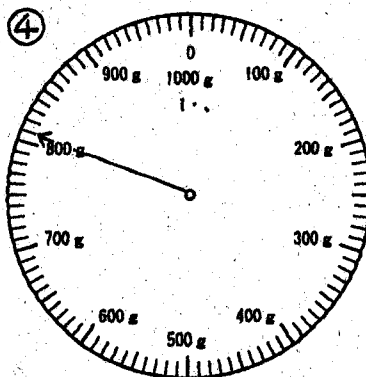


( )



( )

( )



( )

( )



名前



☒ わり算をして、あまりも もとめましょう。(5×20)

①  $51 \div 7 =$

②  $11 \div 8 =$

③  $34 \div 6 =$

④  $28 \div 6 =$

⑤  $32 \div 5 =$

⑥  $47 \div 5 =$

⑦  $32 \div 7 =$

⑧  $17 \div 9 =$

⑨  $13 \div 2 =$

⑩  $46 \div 6 =$

⑪  $59 \div 7 =$

⑫  $71 \div 9 =$

⑬  $26 \div 8 =$

⑭  $21 \div 4 =$

⑮  $19 \div 3 =$

⑯  $21 \div 5 =$


⑰  $17 \div 7 =$

⑱  $63 \div 8 =$

⑲  $14 \div 4 =$

⑳  $33 \div 9 =$

-----



☒ わり算をして、あまりも もとめましょう。(5×20)

①  $22 \div 6 =$

②  $28 \div 9 =$

③  $65 \div 7 =$

④  $3 \div 2 =$

⑤  $13 \div 7 =$

⑥  $43 \div 8 =$

⑦  $48 \div 5 =$

⑧  $43 \div 6 =$

⑨  $26 \div 3 =$

⑩  $14 \div 3 =$

⑪  $45 \div 7 =$

⑫  $39 \div 5 =$

⑬  $60 \div 8 =$

⑭  $38 \div 4 =$

⑮  $73 \div 9 =$

⑯  $51 \div 6 =$

⑰  $33 \div 8 =$

⑱  $19 \div 4 =$

⑲  $17 \div 4 =$

⑳  $16 \div 5 =$

1 次の数を数字で書きましょう。

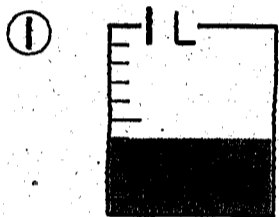
① 千万を3こ、十万を5こあわせた数

--	--	--	--	--	--	--	--	--	--


② 1000を126こ集めた数

--	--	--	--	--	--	--	--	--	--

2 下の水のかさや、テープの長さはどれだけですか。小数で表しましょう。



( )



( )

3 □にあてはまる不等号を書きましょう。

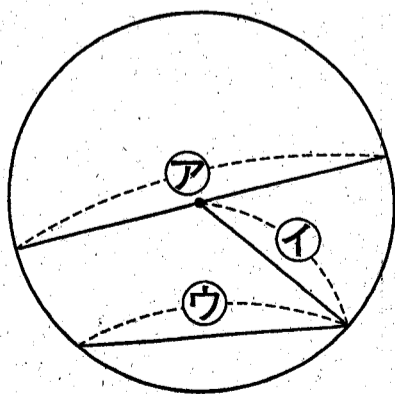
① 0.7 □ 0.5    ② 1.9 □ 2

4 □にあてはまる数を書きましょう。

① 4kg60g = □ g

② 1t = □ kg

5 下の円を見て答えましょう。



① 半径は、アからウのどれですか。

( )

② 半径が2cmのとき、直径は何cmですか。

( )

6 50を10倍した数と10でわった数を書きましょう。

▶ 10倍した数 ( )

▶ 10でわった数 ( )

7 わり算をしましょう。

①  $80 \div 4 =$

②  $48 \div 2 =$

8 かけ算をしましょう。

①				②			
			3 2				8 7
		X	2			X	4
③				④			
			2 5 9				4 6 3
		X	3			X	7

9 計算をしましょう。

①				②			
			1.4				7.1
		+	3.8			-	6.5

5/6 スタートまで！明日、会えね！  
ためしみてね！

かん字を書きましよう。——のことは、かん字でおくりがなで書きましよう。

① 一歩	② 反	③ 助	④ 両	⑤ 童	⑥ 進	⑦ 区	⑧ 練	⑨ 注
⑩ 板	⑪ 油	⑫ 負	⑬ 係	⑭ 住	⑮ 港	⑯ 想	⑰ 身	⑱ 感
⑲ 血	⑳ 命	㉑ 荷	㉒ 列	㉓ 太陽	㉔ 第	㉕ 橋	㉖ 君	㉗ 客
㉘ 大豆	㉙ 化	㉚ 畑	㉛ 秋	㉜ 消	㉝ 昔	㉞ 食	㉟ 整	㊱ 者
㊲ 乗る	㊳ 寒い	㊴ 打つ	㊵ 送る	㊶ 暑い	㊷ 軽い	㊸ 追	㊹ 取る	㊺ 云

① 二歩	② 反	③ 助	④ 両	⑤ 進	⑥ 区	⑦ 練	⑧ 注
⑨ 板	⑩ 油	⑪ 負	⑫ 係	⑬ 柱	⑭ 対	⑮ 合	⑯ 言
⑰ 深	⑱ 港	㉑ 住	㉒ 身	㉓ 夜	㉔ 想	㉕ 送	㉖ 乗
㉗ 板	㉘ 身	㉙ 夜	㉚ 乗	㉛ 命	㉜ 追	㉝ 橋	㉞ 寒
㉟ 命	㊱ 命	㊲ 命	㊳ 命	㊴ 命	㊵ 命	㊶ 命	㊷ 命

かん字を書きましよう。——のことは、かん字でおくりがなで書きましよう。

① 二倍	② 短所	③ 幸福	④ 農業	⑤ 勉強	⑥ 返事
⑦ 配役	⑧ 流氷	⑨ 悪化	⑩ 悪心	⑪ 暗号	⑫ 歯
⑬ 委員	⑭ 銀行	⑮ 病院	⑯ 酒	⑰ 温度	⑱ 意味
⑲ 畑	⑳ 球根	㉑ 荷物	㉒ 板	㉓ 横笛	㉔ 沼
㉕ 他	㉖ 血	㉗ 詩	㉘ 問題	㉙ 問題	㉚ 問題
㉛ 問題	㉜ 問題	㉝ 問題	㉞ 問題	㉟ 問題	㊱ 問題

① 反	② 進	③ 研究	④ 王様	⑤ 鉄橋	⑥ 去	⑦ 洋服	⑧ 商品
⑨ 岸	⑩ 波	⑪ 君主	⑫ 列島	⑬ 中央	⑭ 決勝	⑮ 第	⑯ 昭和
⑰ 全部	⑱ 漢	⑲ 練習	⑳ 漢	㉑ 漢	㉒ 漢	㉓ 漢	㉔ 漢
㉕ 漢	㉖ 漢	㉗ 漢	㉘ 漢	㉙ 漢	㉚ 漢	㉛ 漢	㉜ 漢

① 反	② 進	③ 研究	④ 王様	⑤ 鉄橋	⑥ 去	⑦ 洋服	⑧ 商品
⑨ 岸	⑩ 波	⑪ 君主	⑫ 列島	⑬ 中央	⑭ 決勝	⑮ 第	⑯ 昭和
⑰ 全部	⑱ 漢	⑲ 練習	⑳ 漢	㉑ 漢	㉒ 漢	㉓ 漢	㉔ 漢
㉕ 漢	㉖ 漢	㉗ 漢	㉘ 漢	㉙ 漢	㉚ 漢	㉛ 漢	㉜ 漢

漢字を書きましよう。——の言葉は、漢字を送りがなて書きましよう。

① 乗る	② 上級生	③ 九州地方	④ 二階だて
⑤ 使方ほう	⑥ 持つ	⑦ 世界は広い	⑧ パナナの皮
⑨ 追いかける	⑩ 鼻	⑪ 暑い夏	⑫ 遊ぶ
⑬ 育てる	⑭ 育てる	⑮ 犬をだてる	⑯ 軽い
⑰ 感じる	⑱ 泳ぐ	⑲ 返す	⑳ 植える
㉑ 注ぐ	㉒ 暑い	㉓ 遊ぶ	㉔ 悲しい
㉕ 育てる	㉖ 犬をだてる	㉗ 軽い	㉘ 感じる
㉙ 泳ぐ	㉚ 返す	㉛ 植える	㉜ 注ぐ
㉝ 暑い	㉞ 遊ぶ	㉟ 悲しい	㊱ 育てる
㊲ 犬をだてる	㊳ 軽い	㊴ 感じる	㊵ 泳ぐ
㊶ 返す	㊷ 植える	㊸ 注ぐ	㊹ 暑い
㊺ 遊ぶ	㊻ 悲しい	㊼ 育てる	㊽ 犬をだてる
㊾ 軽い	㊿ 感じる	㊿ 泳ぐ	㊿ 返す



① 地面	② 自由	③ 出来事	④ 文章
⑤ 温かい	⑥ 返る	⑦ 短い	⑧ 調べる
⑨ 指	⑩ 局	⑪ 去る	⑫ 路
⑬ 有る	⑭ 様	⑮ 去る	⑯ 路
⑰ 世	⑱ 銀	⑲ 式	⑳ 号
㉑ 定	㉒ 配	㉓ 洋	㉔ 鉄
㉕ 氷	㉖ 発	㉗ 問	㉘ 農
㉙ 主	㉚ 酒	㉛ 漢	㉜ 次
㉝ 族	㉞ 所	㉟ 葉	㊱ 意
㊲ 登	㊳ 習	㊴ 葉	㊵ 意
㊶ 実	㊷ 商	㊸ 詩	㊹ 族
㊺ 地面	㊻ 自由	㊼ 出来事	㊽ 文章
㊾ 温かい	㊿ 返る	㊿ 短い	㊿ 調べる

① 寒	② 橋	③ 第一	④ 業
⑤ 使	⑥ 級生	⑦ 上級	⑧ 遊
⑨ 遊	⑩ 悲しい	⑪ 育てる	⑫ 軽い
⑬ 感じる	⑭ 泳ぐ	⑮ 返す	⑯ 植える
⑰ 注ぐ	⑱ 暑い	⑲ 遊ぶ	⑳ 悲しい
㉑ 育てる	㉒ 犬をだてる	㉓ 軽い	㉔ 感じる
㉕ 泳ぐ	㉖ 返す	㉗ 植える	㉘ 注ぐ
㉙ 暑い	㉚ 遊ぶ	㉛ 悲しい	㉜ 育てる
㉝ 犬をだてる	㉞ 軽い	㉟ 感じる	㉠ 泳ぐ
㉡ 返す	㉢ 植える	㉣ 注ぐ	㉤ 暑い
㉥ 遊ぶ	㉦ 悲しい	㉧ 育てる	㉨ 犬をだてる
㉩ 軽い	㉪ 感じる	㉫ 泳ぐ	㉬ 返す



名前

▲ ひき算をしましよう。

① 342 -154 188	② 648 -299 349	③ 457 -259 198	④ 912 -724 188
⑤ 531 -37 494	⑥ 724 -286 438	⑦ 873 -386 487	⑧ 680 -596 84
⑨ 304 -176 128	⑩ 654 -395 259	⑪ 475 -187 288	⑫ 263 -175 88
⑬ 467 -389 78	⑭ 325 -298 27	⑮ 500 -99 401	⑯ 777 -489 288
⑰ 848 -269 579	⑱ 211 -193 18	⑲ 926 -637 289	⑳ 156 -88 68

名前


★ 計算をしましよう。

① 826 -537 289	② 258 -199 59	③ 345 -176 169	④ 533 -456 77
⑤ 638 -489 149	⑥ 394 -198 196	⑦ 711 -528 183	⑧ 202 -147 55
⑨ 967 -289 678	⑩ 536 -367 169	⑪ 494 -295 199	⑫ 177 -88 89
⑬ 661 -462 199	⑭ 700 -618 82	⑮ 180 -87 93	⑯ 415 -336 79
⑰ 975 -787 188	⑱ 692 -496 196	⑲ 820 -343 477	⑳ 786 -587 199

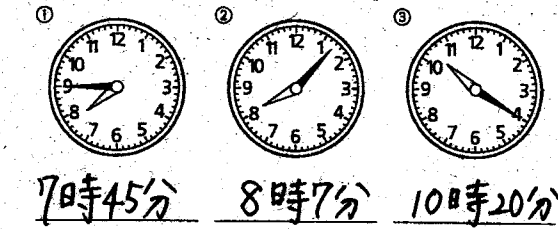
☆  にあてはまる数を書きましょう。

- ① 3dLと 0.5dLで、  dL
- ② 1dLと  dLで、1.8dL
- ③ 4.2dLは、0.1dLが  こ分
- ④ 1.56mは、0.01mが  こ分
- ⑤ 200cm =  m
- ⑥ 20cm =  m
- ⑦ 3.65m =  m  cm
- ⑧ 1m70cm =  m
- ⑨ 1m7cm =  m
- ⑩ 10cm =  m
- ⑪ 4m50cm =  m
- ⑫ 4m5cm =  m

☆ 次の数直線で、↑の表している小数を書きましょう。



① 次の時間は何時何分ですか。



② 時間の長いじゆんに記号をかきましょう。

- ⑤ 5時間30分    ⑥ 1日
- ⑦ 6時間        ⑧ 60分

答え

③  にあてはまる時間のたんいをかきましょう。

- ① 学校で給食を食べていた時間 .....  間
- ② 80mを走るのにかかった時間 .....  間
- ③ えい画を見ていた時間 .....  間

④  にあてはまる数をかきましょう。

- ① 1分 =  秒
- ② 1時間 =  分
- ③ 1日 =  時間
- ④ 1分20秒 =  秒
- ⑤ 1分53秒 =  秒
- ⑥ 128秒 =
- ⑦ 1時間20分 =  分
- ⑧ 2時間40分 =  分
- ⑨ 100分 =
- ⑩ 200分 =

次の計算を計算しましょう。

わり算

①  $24 \overline{) 496}$     ②  $17 \overline{) 353}$

③  $16 \overline{) 160}$     ④  $23 \overline{) 232}$

⑤  $739 \div 2$     ⑥  $832 \div 4$

⑦  $6 \overline{) 13}$     ⑧  $8 \overline{) 32}$

⑨  $12 \overline{) 19}$     ⑩  $32 \overline{) 320}$

⑪  $282 \div 6$     ⑫  $411 \div 7$

⑬  $6 \overline{) 282}$     ⑭  $7 \overline{) 411}$

⑮  $24 \overline{) 42}$     ⑯  $35 \overline{) 61}$

⑰  $42 \overline{) 42}$     ⑱  $56 \overline{) 56}$

⑲  $42 \overline{) 42}$     ⑳  $5 \overline{) 5}$

かけ算

①  $263 \times 476$     ②  $84 \times 639$

③  $14578 \times 1841$     ④  $752 \times 504$

⑤  $1052 \times 125188$     ⑥  $53676 \times 504$

⑦  $581 \times 706$     ⑧  $407 \times 905$

⑨  $581 \times 706$     ⑩  $407 \times 905$

⑪  $3486 \times 407$     ⑫  $2035 \times 3663$

⑬  $4067 \times 410186$     ⑭  $368335 \times 368335$

⑮ 小数のたし算とひき算

①  $2.65 + 1.28$     ②  $4.93 + 2.27$

③  $3.93$     ④  $7.20$

⑤  $6.03 - 2.49$     ⑥  $5 - 4.81$

⑦  $8.03 - 2.49$     ⑧  $5.88 - 4.81$

⑨  $3.54$     ⑩  $0.19$

① 10000を7こ、100を5こあわせた数 (70500)

② 1000を19こ集めた数 (19000)

③ 次の問題に答えましょう。

① 1kmは、何mですか。 (1000m)

② 1mは、何cmですか。 (100cm)

③  にあう数を書きましょう。

①  $\frac{1}{4}$ Lの5こは  Lです。

②  $\frac{1}{8}$ mの8こは1mです。

③ 同じ長さのひごねん土玉を使って、右のようなさいころの形を作ります。

① ねん土玉は何こいりますか。 (8こ)

② ひごは何本いりますか。 (12本)

③ 下のほうグラフを見て、答えましょう。

① 休んだ人かいない人多いのは何曜日ですか。 (水曜日)

② 木曜日に休んだ人か利用した人は何人ですか。 (9人)

①  $72 \div 9 = 8$

②  $28 \div 4 = 7$

③  $29 \div 3 = 9$  あまり2

④  $45 \div 7 = 6$  あまり3

⑤  $816 - 432 = 384$

⑥  $257 - 89 = 168$

⑦ 計算しましょう。


①  $274 + 153$     ②  $569 + 35$

③  $69 \times 7 = 483$     ④  $24 \times 85 = 2040$



① だれが重いでしょう。(5x4)

① 重い方に○をしましょう。




- ② 1ばん重いのはだれですか。(あや)  
 ③ 2ばんめに重いのはだれですか。(みか)  
 ④ 1ばんかるいのはだれですか。(たかし)

② 重い方に○をしましょう。(2x6)

- ① (3kg), 2kg ② 750g, (1000g)  
 ③ 800g, (8kg) ④ (12kg), 1200g  
 ⑤ (3kg) 1800g ⑥ (2500g) 2kg 50g

③ 重いじゃんこに( )の中に記号をかきましょう。(4x3)

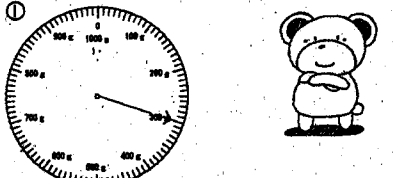
- ① 2kg ② 500g ③ 5kg  
 重い(3)(1)(2)かるい






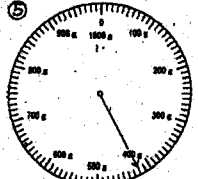
④ ( )にあてはまる数を かきましょう。(5x5)

- ① 1000g = ( 1 )kg  
 ② 8000g = ( 8 )kg  
 ③ 3kg = ( 3000 )g  
 ④ 1kg 200g = ( 1200 )g  
 ⑤ 3500g = ( 3 )kg (500)g


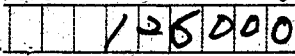
⑤ はかりのはりがさしている重さを( )の中にかきましょう。(5x5)





- ( 300g )  
 ②    
 ( 1300g ) ( 3.7kg )

- ④    
 ( 810g ) ( 420g )

① 次の数を数字で書きましょう。

- ① 千万を3こ、十万を5こあわせた数   
 ② 1000を126こ集めた数 

② 下の水のかさや、テープの長さは何だけですか。小数で表しましょう。

- ①  ②   
 ( 0.4L ) ( 5.8cm )

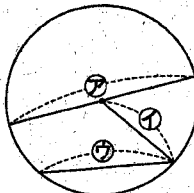
③ □にあてはまる不等号を書きましょう。

- ① 0.7 > 0.5 ② 1.9 < 2

④ □にあてはまる数をかきましょう。

- ① 4kg 60g = 4060g  
 ② 1t = 1000kg

⑤ 下の円を見て答えましょう。

-   
 ① 半径は、②から③のどれですか。( ① )  
 ② 半径が2cmのとき、直径は何cmですか。( 4cm )

⑥ 50を10倍した数と10でわった数を書きましょう。

- ▶ 10倍した数 ( 500 )  
 ▶ 10でわった数 ( 5 )

⑦ わり算をしましょう。

- ① 80 ÷ 4 = 20  
 ② 48 ÷ 2 = 24

⑧ かけ算をしましょう。

① 

		3	2						
	X		2			X		8	7
			6	7				3	7
								8	7

 ② 


③ 


 ④ 


⑨ 計算をしましょう。

① 


 ② 


計算をしましょう。

58 + 71 = 129  
 ② 946 - 374 = 572

わり算をしましょう。

- 18 ÷ 3 = 6  
 56 ÷ 7 = 8  
 23 ÷ 4 = 5あまり3  
 42 ÷ 9 = 4あまり6

計算をしましょう。

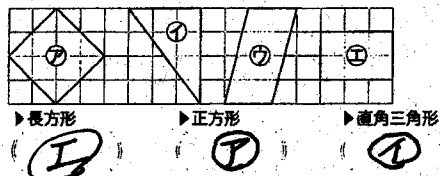
37 × 5 = 185  
 ② 498 × 6 = 2988

64 × 29 = 1856  
 ④ 523 × 87 = 45501

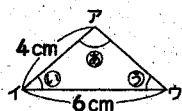
④ 次の数を数字で書きましょう。

- ① 1000万を8こ、100万を2こ、10万を6こあわせた数 82600000  
 ② 1000を47こ集めた数 47000  
 ③ 99999より1大きい数 100000  
 ④ 590を10倍した数 5900  
 ⑤ 300を10でわった数 30

⑤ 長方形、正方形、直角三角形はどれですか。①~④で答えましょう。



⑥ 下の二等辺三角形について答えましょう。



- ① アウの辺の長さは何cmですか。 7cm  
 ② ①の角と大きさの等しい角はどれですか。 ②

- ④ わり算をして あまりも もとめましょう。(5x20)  
 ① 51 ÷ 7 = 7あまり2 ② 11 ÷ 8 = 1あまり3 ③ 34 ÷ 6 = 5あまり4  
 ④ 28 ÷ 6 = 4あまり4 ⑤ 32 ÷ 5 = 6あまり2 ⑥ 47 ÷ 5 = 9あまり2  
 ⑦ 32 ÷ 7 = 4あまり4 ⑧ 17 ÷ 9 = 1あまり8 ⑨ 13 ÷ 2 = 6あまり1  
 ⑩ 46 ÷ 6 = 7あまり4 ⑪ 59 ÷ 7 = 8あまり3 ⑫ 71 ÷ 9 = 7あまり8  
 ⑬ 26 ÷ 8 = 3あまり2 ⑭ 21 ÷ 4 = 5あまり1 ⑮ 19 ÷ 3 = 6あまり1  
 ⑯ 21 ÷ 5 = 4あまり1 ⑰ 17 ÷ 7 = 2あまり3 ⑱ 63 ÷ 8 = 7あまり7  
 ⑲ 14 ÷ 4 = 3あまり2 ⑳ 33 ÷ 9 = 3あまり6

- ④ わり算をして あまりも もとめましょう。(5x20)  
 ① 22 ÷ 6 = 3あまり4 ② 28 ÷ 9 = 3あまり1 ③ 65 ÷ 7 = 9あまり2  
 ④ 3 ÷ 2 = 1あまり1 ⑤ 13 ÷ 7 = 1あまり6 ⑥ 43 ÷ 8 = 5あまり3  
 ⑦ 48 ÷ 5 = 9あまり3 ⑧ 43 ÷ 6 = 7あまり1 ⑨ 26 ÷ 3 = 8あまり2  
 ⑩ 14 ÷ 3 = 4あまり2 ⑪ 45 ÷ 7 = 6あまり3 ⑫ 39 ÷ 5 = 7あまり4  
 ⑬ 60 ÷ 8 = 7あまり4 ⑭ 38 ÷ 4 = 9あまり2 ⑮ 73 ÷ 9 = 8あまり1  
 ⑯ 51 ÷ 6 = 8あまり3 ⑰ 33 ÷ 8 = 4あまり1 ⑱ 19 ÷ 4 = 4あまり3  
 ⑲ 17 ÷ 4 = 4あまり1 ⑳ 16 ÷ 5 = 3あまり1