

3年 自習課題

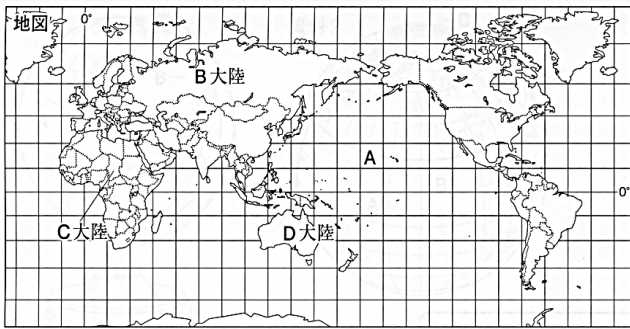
～ 1年の範囲編～



コダイくん

ロマンちゃん

3年__組__番 氏名_____



資料	地球の表面積	5億 995万 km ²	(2011年版「理科年表」)
	陸地の面積…X	1億4,889万 km ²	
	海洋の面積…Y	3億6,106万 km ²	

- 1 地図中のAの、世界で最も面積が大きい海洋名を答えなさい。 1

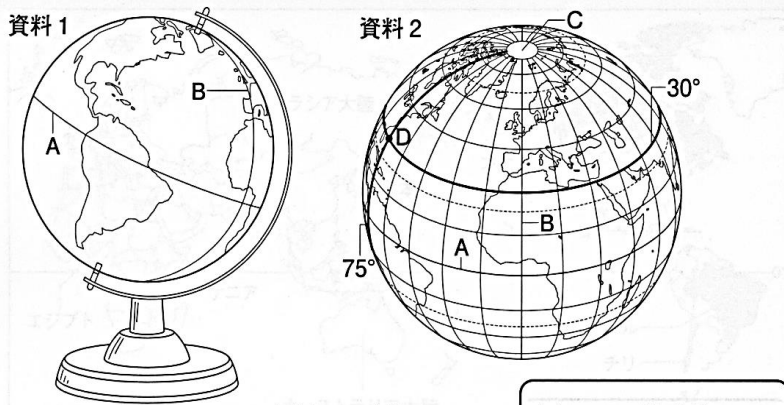
- 2 地図中のBの、世界で最も面積が大きい大陸名を答えなさい。 2

- 3 地図中のCの、世界で2番目に面積が大きい大陸名を答えなさい。 3

- 4 地図中のDの、世界で最も面積が小さい大陸名を答えなさい。 4

- 5 資料中のXの面積は、北半球と南半球のどちらに多いですか。 5

- 6 資料中のX：Yの割合を整数で答えなさい。 6



- 7 資料1の地球をそのまま縮小した模型を何といますか。 7

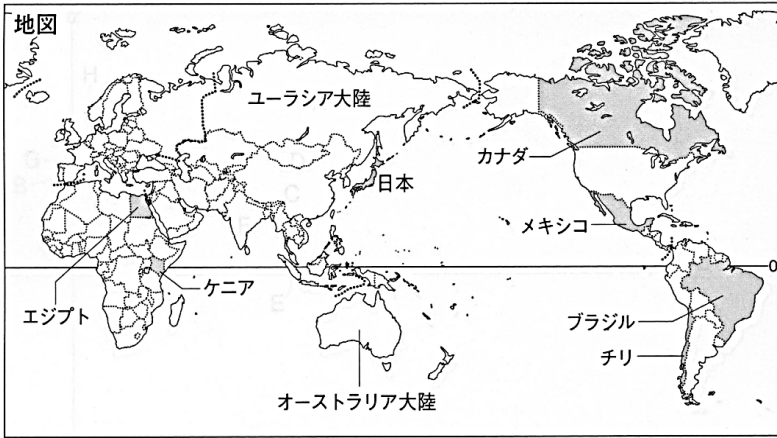
- 8 資料1と資料2に共通して引かれているAの緯線を何といますか。 8

- 9 Aの緯線より北の緯度を何といますか。 9

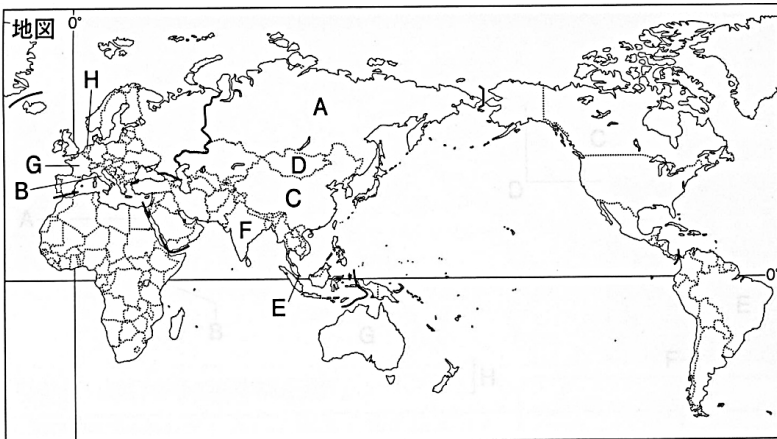
- 10 資料1と資料2に共通して引かれているBの経線を何といますか。 10

- 11 Bの経線より東の経度を何といますか。 11

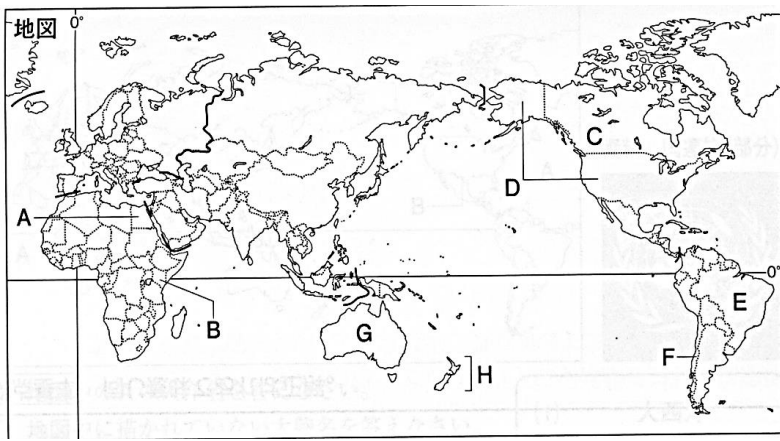
- 12 資料2中のDの位置を、緯度と経度でそれぞれ示しなさい。 12



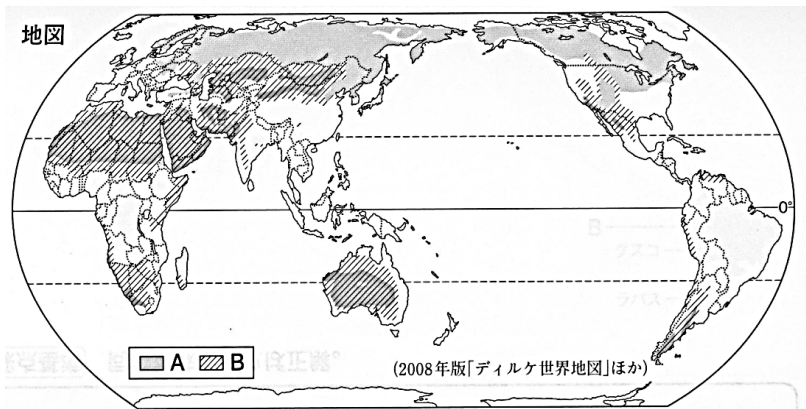
- 13 地図中のオーストラリア大陸と周辺の島々をふくむ州を何といますか。 13 _____
- 14 ユーラシア大陸は、アジア州と何州に分かれますか。 14 _____
- 15 地図中のエジプト、ケニアが属する州を何といますか。 15 _____
- 16 地図中のカナダ、メキシコが属する州を何といますか。 16 _____
- 17 地図中のブラジル、チリが属する州を何といますか。 17 _____
- 18 地図中の日本は何州に属していますか。 18 _____



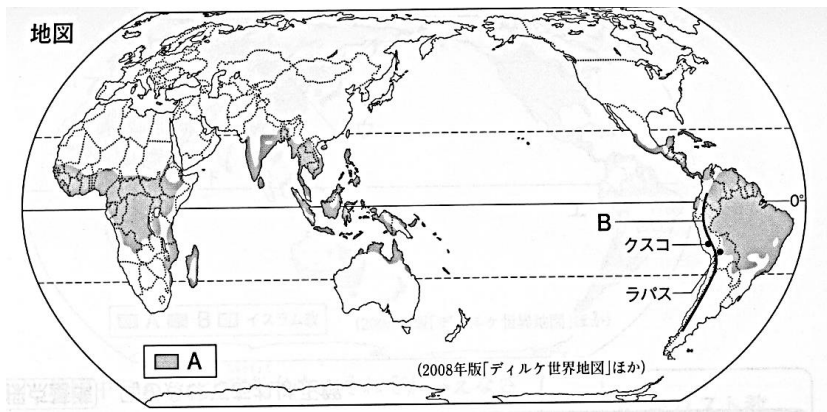
- 19 地図中のAの、世界で最も面積が大きい国名を答えなさい。 19 _____
- 20 地図中のBの国の首都ローマにある、世界で最も面積が小さい国を答えなさい。 20 _____
- 21 地図中のCの、世界で最も人口の多い国名を答えなさい。 21 _____
- 22 地図中のDの、遊牧がさかんな内陸国の国名を答えなさい。 22 _____
- 23 地図中のEの、「ライオンの町」という意味の国名を答えなさい。 23 _____
- 24 地図中のFの、「インダス川」からつけられた国名を答えなさい。 24 _____
- 25 地図中のGの、「フランク族の地」という意味の国名を答えなさい。 25 _____
- 26 地図中のHの、正式名称をネーデルランドという国名を答えなさい。 26 _____



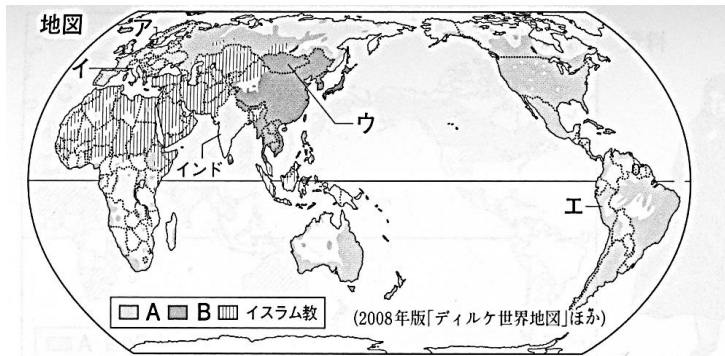
- 27 地図中のAの、国境線の大部分が直線である国名を答えなさい。 27 _____
- 28 地図中のBの、中央部に赤道が通る国名を答えなさい。 28 _____
- 29 地図中のCの、世界で2番目に面積が大きい国名を答えなさい。 29 _____
- 30 地図中のDの、世界で3番目に面積が大きい国名を答えなさい。 30 _____
- 31 地図中のEの、世界で5番目に面積が大きい国名を答えなさい。 31 _____
- 32 地図中のFの、南北に長い国境線を持つ国名を答えなさい。 32 _____
- 33 地図中のGの、日本のほぼ真南に位置する国名を答えなさい。 33 _____
- 34 地図中のHの、日本と同じ海洋国である国名を答えなさい。 34 _____



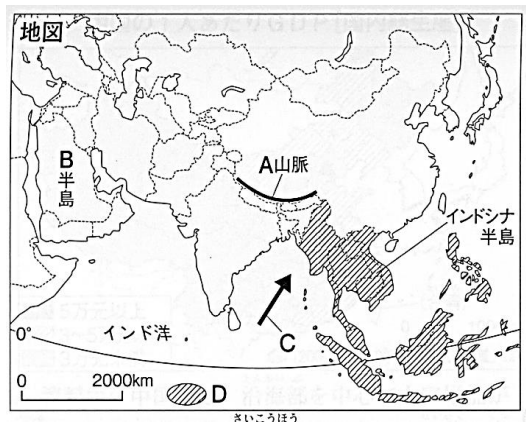
- 35 地図中のAの、冬の寒さがきびしく夏が短い気候帯名を答えなさい。 35 _____
- 36 Aの気候帯に広がる針葉樹の森林を何といいますか。 36 _____
- 37 Aの気候帯より高緯度の地域の気候帯は何帯といわれますか。 37 _____
- 38 地図中のBの、雨がほとんど降らない気候帯名を答えなさい。 38 _____
- 39 Bの気候帯の大部分を占める地域に広がっているものは何ですか。 39 _____
- 40 Bの気候帯で、家畜を連れて移動生活を行うことを何といいますか。 40 _____



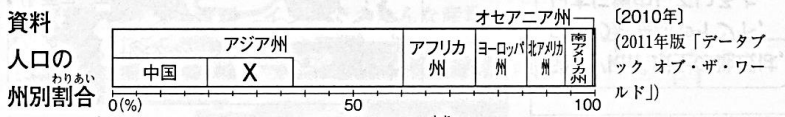
- 41 地図中のAの、1年を通して高温で、雨の多い気候帯名を答えなさい。 41 _____
- 42 Aの気候帯にうっそうと広がる森林を何といいますか。 42 _____
- 43 地図中のBの山脈周辺の気温は、暑くなりますか。すずしくなりますか。 43 _____
- 44 Bの周辺ではアルパカや何の放牧が行われていますか。 44 _____



- 45 イスラム教は、アジア州以外にどの州に広く分布していますか。 45 _____
- 46 インドの国民に信仰されている宗教を何といいますか。 46 _____



- 47 地図中のAの山脈名を答えなさい。 47 _____
- 48 地図中のBの半島名を答えなさい。 48 _____
- 49 地図中のCで示した、季節によってふく方向が変わる風を何といいますか。 49 _____
- 50 地図中のDの国々が加盟する東南アジア諸国連合の略称を答えなさい。 50 _____



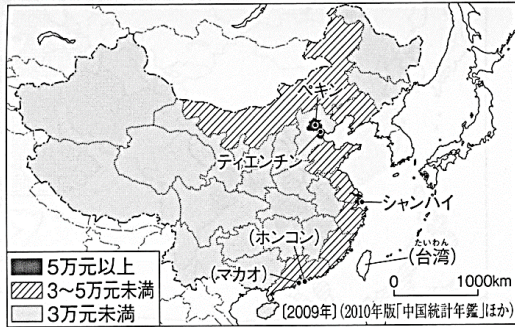
51 資料中のアジア州は、世界人口の約何割を占めていますか。

51

52 資料中のXにあてはまるアジアの国を答えなさい。

52

資料 中国の1人あたりGDP〔国内総生産〕



53 資料中の中国で行われてきた、人口をおさえるための政策を答えなさい。

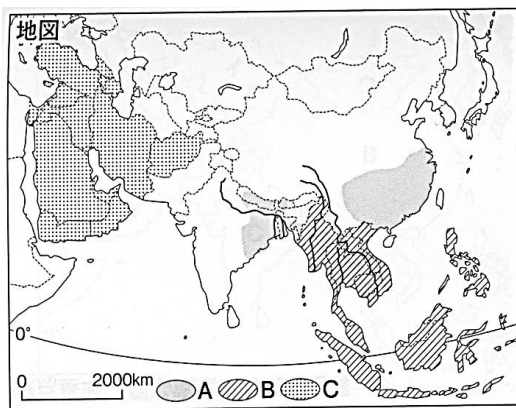
53

54 資料から、中国では沿海部と内陸部のどちらが豊かであるといえますか。


54

55 インドでさかんな情報技術産業の略称を答えなさい。

55



資料 Bの諸国の国別輸
出額割合



56 地図中のAの地域で栽培がさかんな、日本の主食となる作物はなんですか。

56

57 資料から、Bの諸国の輸出はどの州の国々にさかんに行われていますか。

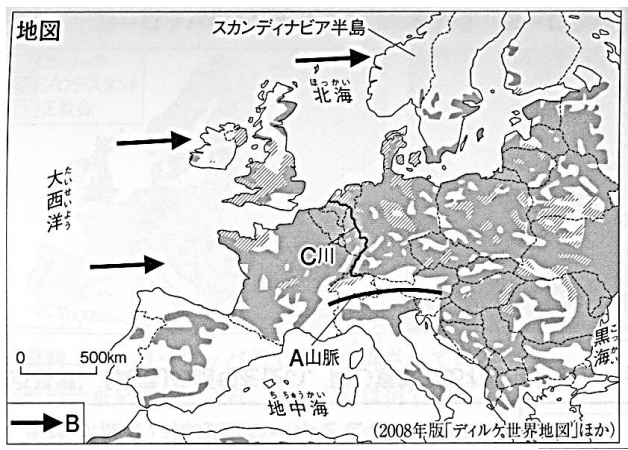
57

58 Cの地域の大部分の人々が信仰している宗教名を答えなさい。

58

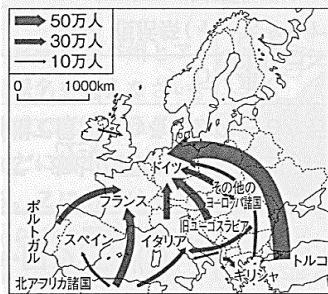
59 Cの地域で多く産出される鉱産資源は何ですか。

59



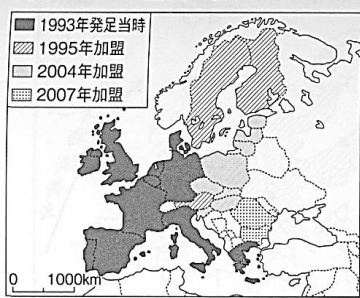
- 60 地図中のAの山脈名を答えなさい。 60 _____
- 61 地図中のBの風を何といいますか。 61 _____
- 62 地図中のCの、複数の国を流れる河川名を答えなさい。 62 _____
- 63 北欧などでみられる、複雑に入り組んだ海岸線を何といいますか。 63 _____
- 64 地中海の沿岸で行われる農業を何といいますか。 64 _____
- 65 穀物の栽培と家畜の飼育を組み合わせた農業を何といいますか。 65 _____
- 66 チーズやバターなどの乳製品をつくる農業を何といいますか。 66 _____
- 67 ヨーロッパで広く信仰されている宗教を何といいますか。 67 _____

資料 ヨーロッパ州の外国人労働者の移動

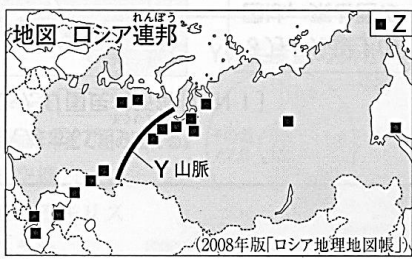


- 68 資料から、外国人労働者を最も多く受け入れている国を答えなさい。 68 _____
- 69 資料から、外国へ労働者を最も多く送り出している国を答えなさい。 69 _____

資料1 X加盟国の拡大



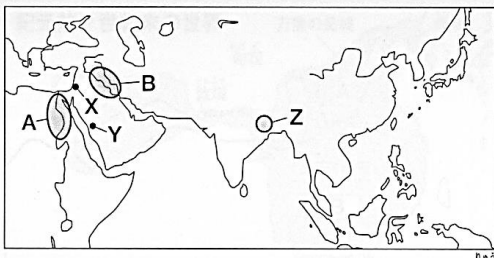
- 70 資料1中のXにあてはまるヨーロッパ連合の略称を答えなさい。 70 _____
- 71 Xの加盟国は、2015年現在、何カ国か答えなさい。 71 _____
- 72 Xの加盟国間で使用される共通通貨を何といいますか。 72 _____



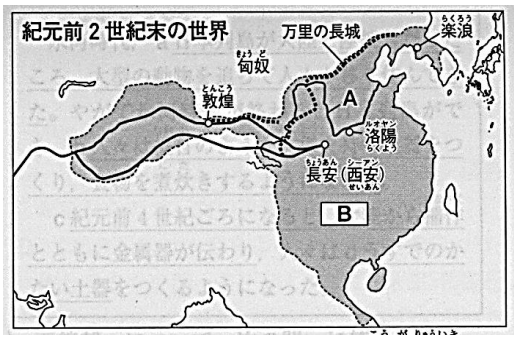
- 73 地図中のYの、ヨーロッパとアジアを分ける山脈名を答えなさい。 73
- 74 Zで示した、Xの加盟国や日本にも多く輸出される資源を答えなさい。 74

ここから歴史

- 75 人類が最初に出現した大陸は何大陸ですか。 75
- 76 石を打ち欠いてつくる石器を何といいますか。 76
- 77 石の表面をみがき、形を整えた石器を何といいますか。 77
- 78 77の石器を使い、農耕や牧畜をはじめた時代を何といいますか。 78



- 79 地図中のAのエジプト文明は、何という川の流域に発生しましたか。 79
- 80 地図中のBの川の流域で発生した文明を何といいますか。 80
- 81 地図中のBの文明で使用された文字を答えなさい。 81
- 82 エジプト文明で王の墓としてつくられた建造物を答えなさい。 82
- 83 地図中のXの地域でイエスが説いた宗教名を答えなさい。 83
- 84 地図中のYの地域でムハンマドが説いた宗教名を答えなさい。 84
- 85 地図中のZの地域で仏教を開いたのはだれですか。 85



- 86 紀元前16世紀ごろ、地図中Aの黄河流域におこった国を何といますか。 86 _____
- 87 86の文明で使われていた、亀の甲などにきざむ文字を何といますか。 87 _____
- 88 紀元前6世紀ごろ、仁と礼の心が国を治めるもとであると説いた人物はだれですか。 88 _____
- 89 88の教えを何といますか。 89 _____
- 90 紀元前3世紀に、中国を統一した秦の王はだれですか。 90 _____
- 91 秦にかわり中国を統一した、地図中Bの国を何といますか。 91 _____
- 92 紀元前2世紀ごろに整えられた、中国とローマを結ぶ交易路を何といますか。 92 _____

氷河時代、a 日本列島が大陸と陸続きだったころ、大型の動物を追って人々が移り住んできた。やがて氷河時代が終わると日本列島ができ、b 人々は縄目のような文様を持つ土器をつくり、食物を煮炊きするようになった。

c 紀元前4世紀ごろになると、大陸から稲作とともに金属器が伝わり、人々はd うすでのかたい土器をつくるようになった。

- 93 下線部aについて、このころの人々のように打製石器を使っていた時代を何といますか。 93 _____
- 94 日本にも94の時代があったことが初めて確認された群馬県の遺跡を答えなさい。 94 _____
- 95 下線部bのような土器を何といますか。 95 _____
- 96 下線部bの時代の人々が食べ残した貝がらなどが積もったあとを何といますか。 96 _____
- 97 下線部bの時代では最大級の規模である、青森県の遺跡を答えなさい。 97 _____
- 98 下線部cについて、この時代に稲をかり取るために使っていた道具の名前を答えなさい。 98 _____
- 99 下線部dについて、この時代に使用されていた土器を答えなさい。 99 _____

地方や朝廷で、a豪族の反乱や争いが続いていた6世紀の末に、b天皇の摂政として即位した聖徳太子は、天皇を中心とする国家のしくみをつくろうとし、さまざまなc政治の改革を行った。

どうしよう

100 下線部aについて、物部氏をほろぼし大きな権力をにぎった豪族は何氏ですか。 100

101 bにあてはまる天皇はだれですか。 101

102 下線部cについて、聖徳太子が役人の心構えを示したものは何といわれますか。 102

103 聖徳太子が家柄にとらわれず、才能によって役職につけようとする制度を何といいますか。

103

104 607年、聖徳太子が遣隋使として派遣したのはだれですか。 104

105 大化の改新で、土地や人民はすべて国のものとして扱うしくみを何といいますか。 105

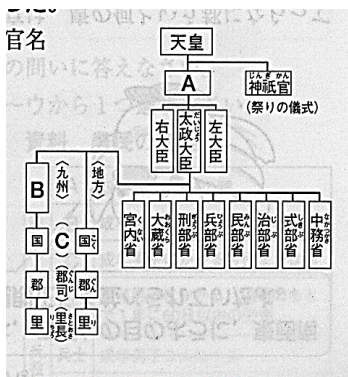
106 中臣鎌足の協力を得て、政治を進め、のちに天智天皇となった人物はだれですか。

106

701年、a唐にならった法律がつくられ、全国を支配するしくみが整えられた。710年にはb平城京が奈良につくられ、律令制度にもとづく政治が行われるようになった。

107 下線部aの法律を何といいますか。 107

108 下線部bの平城京について、ものの売り買いに使われた貨幣を何といいますか。 108



109 律令制の最高役職である、図中のAを何といいますか。 109

110 図中のBの、外交や防衛にあたった九州に置かれた役所を何といいますか。 110

111 図中のCの、貴族が任命されて派遣された役人を何といいますか。 111

112 図中の郡司は、どのような人々が任命されたのか、答えなさい。 112

奈良時代には、戸籍がつくられ、それにもとづいて①以上の男女に土地をあたえ、その人が死ぬと国に返させることになっていた。人々は②土地の面積に応じて租や庸・調などの税を納めたほかに、兵役の義務も課せられた。やがて、土地が不足してきたので、③朝廷は743年に法令を出し、農地の開墾を進めようとした。

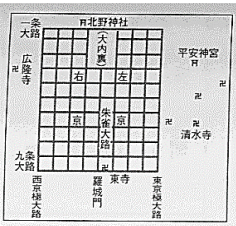
資料 農民の負担

税	A	収穫量の約3%の稲
	B	成年男子にかかる地方の特産物
	C	成年男子にかかる労役または布
兵役・労役	雑徭	成年男子にかかる、国司のもとで1年に60日以内の労働
	兵士	成年男子3人に1人
	卫士	兵士から選ばれ、1年間、都の警備にあたる
	D	兵士から選ばれ、3年間、九州北部の警備にあたる

- 113 下線部aについて、人々にあたえられた土地を何といいますか。 113 _____
- 114 aにあてはまる年齢を答えなさい。 114 _____
- 115 下線部aのような土地制度を何といいますか。 115 _____
- 116 下線部bについて、資料中のAにあてはまるものを答えなさい。 116 _____
- 117 資料中のDの兵役を何といいますか。 117 _____
- 118 下線部cについて、この法令を何といいますか。 118 _____

奈良時代に、朝廷は、a 中国の制度や文化を取り入れようと、たびたび使いを送った。その結果、b 使いのもたらした影響を強く受けた文化が栄えるようになった。一方、聖武天皇は、国々に命じ、東大寺や国分寺・国分尼寺をつくらせ、c その事業には民間の僧の協力もあおいだ。

- 119 下線部aについて、中国に派遣された使いを何といいますか。 119 _____
- 120 下線部aの使いとともに来日し、日本の仏教を整えた唐の僧はだれですか。 120 _____
- 121 下線部bについて、聖武天皇のころに栄えたこの文化を何といいますか。 121 _____
- 122 聖武天皇の遺品などが納められた、東大寺の宝庫を何といいますか。 122 _____
- 123 国ごとの自然や伝説などをまとめたものを何といいますか。 123 _____
- 124 下線部cの、人々とともに橋や用水路をつくり、大仏づくりにも協力した僧はだれですか。 124 _____



- 125 794年につくられた資料の都を何といいますか。 125 _____
- 126 それまでの都を、資料の都に移した天皇はだれですか。 126 _____
- 127 126の天皇が、東北に勢力を広げようとして征夷大將軍に任命した人物を答えなさい。 127 _____

- 128 9世紀の初め、比叡山に延暦寺を建て、天台宗を広めた人物はだれですか。 128 _____
- 129 128と同時期に、高野山に金剛峯寺を建て、真言宗を広めた人物はだれですか。 129 _____
- 130 894年、唐のおとろえを理由に遣唐使の停止をすすめた人物はだれですか。 130 _____

9世紀の後半、藤原氏は、a天皇を補佐する
 役職について政治の実権をにぎった。朝廷の高
 い位を独占した藤原氏の政治は、b11世紀前半
 に全盛期を迎えた。また、このころには、c国
 風文化も最も栄えた。

資料1 平等院鳳凰堂



資料2



この世をば わが世とぞ思う 望月の
 欠けたることも 無しと思えば

- 131 下線部aについて、天皇が幼いときについた役職を答えなさい。 132 _____
- 132 下線部aについて、天皇が成人してからついた役職を答えなさい。 132 _____
- 133 藤原氏による政治を何といいますか。 133 _____
- 134 下線部bについて、藤原氏の全盛期に、次の歌をよんだ人物を答えなさい。 134 _____
- 135 資料1を建てた、135の子にあたる人物はだれですか。 135 _____
- 136 下線部bのころ流行した、極楽浄土に生まれ変わろうとする信仰を何といいますか。 136 _____
- 137 下線部cについて、この時代に発達した資料2のような文字を何といいますか。 137 _____
- 138 貴族の生活の様子をあらわした、清少納言の作品を答えなさい。 138 _____

- 答え合わせを各自でしておきましょう。
- 提出などに関しては登校が再開したら授業内で連絡します。
- 整理と対策(まとめワーク)はどんどん先に進めてもらって構いません。
- みんな元気に学校で会いましょう。